








# इकाई - 9

## पैटर्न

पैटर्न को इसी क्रम में आगे बढ़ाओ।

(1)		_____ , _____ , _____
(2)		_____ , _____ , _____
(3)		_____ , _____ , _____
(4)		_____ , _____ , _____
(5)		_____ , _____ , _____
(6)		_____ , _____ , _____
(7)		_____ , _____ , _____



नाम \_\_\_\_\_ कक्षा \_\_\_\_\_  
वर्ग / अनुक्रमांक \_\_\_\_\_ दिनांक \_\_\_\_\_

इसी क्रम में आगे बढ़ाओ।

(क)



(ख)



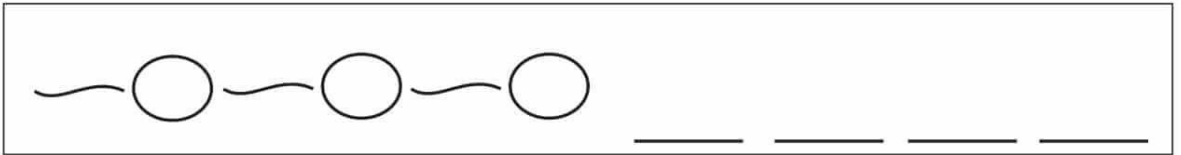
(ग)



(घ)



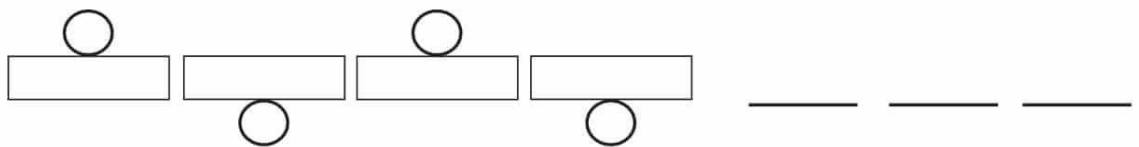
(ङ)



(च)



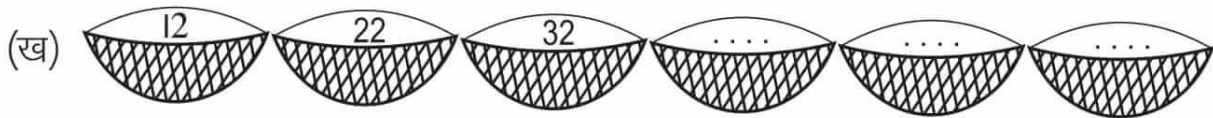
(छ)



❖ पैटर्न पूरा करो।



❖ दिए गए पैटर्न को अध्ययन करें और खाली स्थान पर संख्या भरें।



❖ दिए गए पैटर्न को अध्ययन करें और छूटी हुई संख्याएँ भरिए।



नाम \_\_\_\_\_ कक्षा \_\_\_\_\_

वर्ग / अनुक्रमांक \_\_\_\_\_ दिनांक \_\_\_\_\_