



इकाई - 8

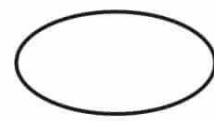


आंकड़ों का उपयोग





❖ ऊपर के चित्र में बनी आकृतियों को गिनकर लिखें।



❖ सबसे अधिक आने वाली आकृति पर सही (✓) का निशान लगाए।



❖ सबसे कम आने वाली आकृति पर सही (✓) का निशान लगाए।




नाम _____ कक्षा _____

वर्ग / अनुक्रमांक _____ दिनांक _____


आंकड़ों का उपयोग

❖ चित्र में दी गई वस्तुओं को गिनें और तालिका पूरी करें।



वस्तु	वस्तुओं की संख्या
फूल	
संतरे	
केले	
पेंसिलें	
खिलौने	
खरगोश	
फुटबॉल	





गिनोँ और लिखो।

- ❖ काली कमीज़ पहनने वाले लड़कों की संख्या
- ❖ नीली कमीज़ पहनने वाले लड़कों की संख्या
- ❖ हरी कमीज़ पहनने वाले लड़कों की संख्या
- ❖ पीली कमीज़ पहनने वाले लड़कों की संख्या

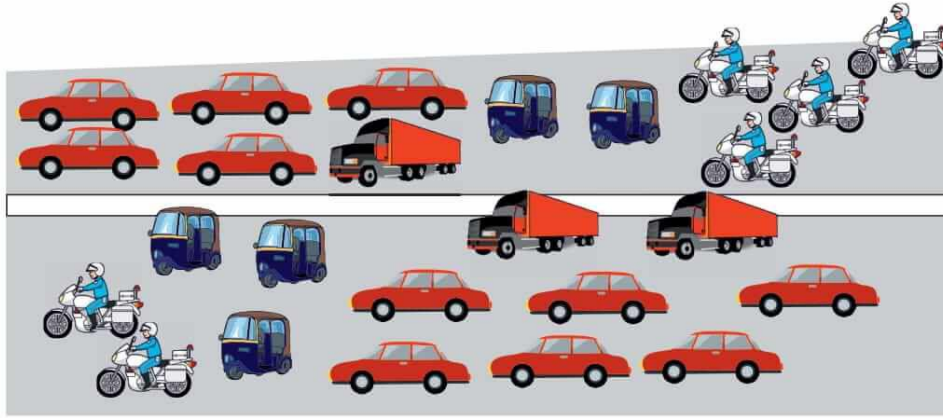
सही विकल्प पर (✓) का निशान लगाओ।





- ❖ सबसे अधिक पसंदीदा रंग
- ❖ सबसे कम पसंदीदा रंग



नाम _____ कक्षा _____
वर्ग / अनुक्रमांक _____ दिनांक _____

❖ गिनो हर प्रकार के कितने वाहन?



आकलन

❖ दस के समूह में करें।

आपके समूह में कितने बच्चों के नाम दिए गए अक्षरों से शुरू होते हैं—

'अ' से शुरू होने वाले नाम 'र' से शुरू होने वाले नाम

'स' से शुरू होने वाले नाम किसी और अक्षर से शुरू होने वाले नाम

❖ 'अ', 'र', 'स', में से सबसे अधिक नाम किस अक्षर से है

❖ सबसे कम नाम किस अक्षर से है?

अक्षरों को सुविधानुसार बदला जा सकता है।

